

Grand Bundle PDF Course 2021

Exams Covered:

**SBI Clerk | SBI PO | IBPS RRB PO |
IBPS RRB Clerk | IBPS PO | IBPS Clerk**

Separate PDF Course for All Major Bank pre + Mains Exams

- Total No. of Ques: **40,000+**
- Question in Bilingual (**Eng & Hindi**)
- Answers With Detailed **Video Solution**
- Provides you **50 days Study Planner** for each exams
- **Covers All Types** of Questions in Each Topic
- Questions in **Exact Exam Level**
- All Our PDFs are **Downloadable**
- **100% Satisfaction** Assured & It's Worthy for your money
- Download as PDF & also take **Quiz with Timer**



Grab It Now



Grand Bundle PDF Course for All Bank Prelims Exams 2021

Separate PDF Courses for All Major Bank Exams

- Total Number of Questions: **25000**
- Language: English & Hindi
- Exact Exam Level Questions
- Answer Key with Video Solution

Exams Covered:
• SBI Clerk • IBPS PO
• SBI PO • IBPS Clerk
• IBPS RRB PO
• IBPS RRB Clerk

Grab It Now

Validity: **1 Year**



Grand Bundle PDF Course for All Bank Mains Exams 2021

Separate PDF Courses for All Major Bank Exams

- Total Number of Questions: **15000**
- Language: English & Hindi
- Exact Exam Level Questions
- Answer Key with Video Solution

Exams Covered:
• SBI Clerk • IBPS PO
• SBI PO • IBPS Clerk
• IBPS RRB PO
• IBPS RRB Clerk

Grab it Now

Validity: **1 Year**



Grand Bundle PDF Course Combo Prelims + Mains 2021

Separate PDF Courses for All Major Bank Exams

- Total Number of Questions: **40000+**
- Language: **English & Hindi**
- **Exact Exam Level** Questions
- Answer Key with **Video Solution**

Exams Covered:
• SBI Clerk • IBPS PO
• SBI PO • IBPS Clerk
• IBPS RRB PO
• IBPS RRB Clerk

Grab it Now

Validity: **1 Year**

Top Important Direction Sense Questions for IBPS PO Pre 2021 – Hindi Version

निर्देश (1-3): निम्नलिखित जानकारी का ध्यानपूर्वक अध्ययन करें और नीचे दिए गए प्रश्नों के उत्तर दें।

बिंदु K, बिंदु N के उत्तर में है। बिंदु T, बिंदु O के उत्तर में और बिंदु B के पश्चिम में है। बिंदु G, बिंदु K के पूर्व में है और बिंदु B के दक्षिण में है। बिंदु I, बिंदु N के पश्चिम में है। बिंदु K, बिंदु O के दक्षिण-पश्चिम में है, जो बिंदु A के उत्तर में है। बिंदु A, बिंदु G के पश्चिम में है लेकिन बिंदु K और G के ठीक मध्य में नहीं है।

1) यदि I और N के बीच की दूरी 12 किमी है और K और N के बीच की दूरी 9 किमी है, तो I और K के बीच की न्यूनतम दूरी क्या है?

- A. 17 किमी
- B. 15 किमी
- C. 16 किमी
- D. 8 किमी
- E. निर्धारित नहीं किया जा सकता

2) निम्नलिखित में से कौन सा बिंदु, बिंदु O के उत्तर-पूर्व में है?

- A. बिंदु G
- B. बिंदु I
- C. बिंदु B
- D. बिंदु K
- E. बिंदु N

निर्देश (3-5): निम्नलिखित जानकारी का ध्यानपूर्वक अध्ययन करें और नीचे दिए गए प्रश्नों के उत्तर दें।

बिंदु R, बिंदु J के 6 मीटर पूर्व में और बिंदु M के 5 मीटर उत्तर में है, जो बिंदु U के 9 मीटर पश्चिम में है। बिंदु X, बिंदु I के 4 मीटर दक्षिण में है, जो बिंदु T के 8 मीटर पश्चिम में है। बिंदु S, बिंदु U के 10 मीटर उत्तर में और बिंदु X के 5 मीटर पूर्व में है।

3) निम्नलिखित में से कौन सा बिंदु, बिंदु J के उत्तर पूर्व में है?

- A. बिंदु U

- B. बिंदु Z
- C. बिंदु R
- D. बिंदु M
- E. इनमें से कोई नहीं

4) बिंदु R और X के बीच लगभग न्यूनतम दूरी कितनी है?

- A. 7मी
- B. 5मी
- C. 6मी
- D. 8मी
- E. इनमें से कोई नहीं

5) बिंदु M के सन्दर्भ में बिंदु S निम्न में से किस दिशा में है?

- A. उत्तरपूर्व
- B. दक्षिणपूर्व
- C. उत्तर पश्चिम
- D. दक्षिण पश्चिम
- E. इनमें से कोई नहीं

निर्देश (6-8): निम्नलिखित जानकारी का ध्यानपूर्वक अध्ययन करें और नीचे दिए गए प्रश्नों के उत्तर दें-

बिंदु G, बिंदु F के 8 मी उत्तर में है जो बिंदु B के 9 मी पश्चिम में है। बिंदु B, बिंदु K के 6 मी उत्तर में है। बिंदु T, बिंदु K के 15 मी पश्चिम में है। बिंदु M, बिंदु S और G के ठीक मध्य में है। बिंदु M, बिंदु T के उत्तर में है। बिंदु S, बिंदु G के 12 मी पश्चिम में है।

यदि व्यक्ति बिंदु A से दक्षिण की ओर चलता है, तो बिंदु C पर पहुंचने के लिए 3 मीटर चलता है। अब वह अपने दाहिनी ओर मुड़ता है और बिंदु R पर पहुंचने के लिए 5 मीटर चलता है, फिर वह बिंदु L पर पहुंचने के लिए दक्षिण दिशा में 7 मीटर चलता है। बिंदु L, B के उत्तर में है और बिंदु G के पूर्व में है।

6) M और T के बीच न्यूनतम दूरी क्या है?

- A. 15 मी

Top Important Direction Sense Questions for IBPS PO Pre 2021 – Hindi Version

- B. 14 मी
 C. 16 मी
 D. 12 मी
 E. उपरोक्त में से कोई नहीं

7) निम्नलिखित में से चार एक खास तरीके से समान हैं। निम्नलिखित में से कौन उस समूह से संबंधित नहीं है?

- A. AG
 B. CF
 C. BT
 D. CG
 E. SK

8) K के सन्दर्भ में R की दिशा और दूरी क्या है?

- A. 22 मी दक्षिण की ओर
 B. 20 मी उत्तर की ओर
 C. 21 मी उत्तर की ओर
 D. 20 मी दक्षिण की ओर
 E. 18 मी उत्तर की ओर

निर्देश (9-11): निम्नलिखित जानकारी का ध्यानपूर्वक अध्ययन करें और नीचे दिए गए प्रश्नों के उत्तर दें-

समुद्र तट पर कुछ व्यक्ति एक खास दूरी पर खड़े हैं। राम, रागू से 15 किमी दक्षिण-पश्चिम में खड़ा है। राजी, पावी से 12 किमी दक्षिण में और राजू से 14 किमी उत्तर में खड़ा है। अरुण, रागू के दक्षिण में और राजू के पूर्व में खड़ा है। कवि, अरुण से 10 किमी पूर्व में खड़ा है। पावी, रागू से 30 किमी पश्चिम में खड़ा है। कन्नन, राजू के 21 किमी पूर्व में और राम के दक्षिण में खड़ा है।

9) यदि माही, राम के उत्तर में और रागू के पश्चिम में खड़ा है, तो रागू और माही के बीच की दूरी क्या है?

- A. 6 किमी
 B. 9 किमी
 C. 10 किमी

- D. 7 किमी
 E. उपरोक्त में से कोई नहीं

10) राम के सन्दर्भ में कवि की दिशा क्या है?

- A. पूर्व
 B. उत्तर-पश्चिम
 C. दक्षिण-पूर्व
 D. दक्षिण
 E. दक्षिण-पश्चिम

11) कन्नन और कवि के बीच की दूरी क्या है?

- A. 13 किमी
 B. 15 किमी
 C. 19 किमी
 D. 18 किमी
 E. निर्धारित नहीं किया जा सकता

निर्देश (12-13): निम्नलिखित जानकारी का ध्यानपूर्वक अध्ययन करें और नीचे दिए गए प्रश्नों के उत्तर दें-

देवी बिंदु K से पूर्व दिशा में 14 मीटर चलती है और बिंदु P पर पहुँचती है, फिर वह बाईं ओर मुड़ती है और बिंदु S पर पहुँचने के लिए 11 मीटर चलती है। फिर वह दाईं ओर मुड़ती है और बिंदु H तक पहुँचने के लिए 6 मीटर चलती है और बाईं ओर मुड़ती है और बिंदु L तक पहुँचने के लिए 9 मीटर चलती है। फिर बाएं मुड़ती है और बिंदु M तक पहुँचने के लिए 15 मीटर चलती है।

12) H के सन्दर्भ में बिंदु K की दिशा क्या है?

- A. पश्चिम
 B. पूर्व
 C. उत्तर
 D. दक्षिण
 E. दक्षिण-पश्चिम

13) यदि बिंदु O, बिंदु K से 5 मीटर पूर्व में है, तो बिंदु O और M के बीच की दूरी क्या है?

Top Important Direction Sense Questions for IBPS PO Pre 2021 – Hindi Version

- A. 11 मी
- B. 15 मी
- C. 20 मी
- D. 18 मी
- E. 22 मी

निर्देश (14-16): निम्नलिखित जानकारी का ध्यानपूर्वक अध्ययन कीजिए और नीचे दिए गए प्रश्नों के उत्तर दीजिए।

एक सुबह, प्रिया की परछाई उसके बाईं ओर पड़ती है और वह बिंदु X से चलना शुरू करके बिंदु Y पर पहुँचने के लिए 6 किमी चलती है, जहाँ वह दाईं ओर मुड़ती है और बिंदु T पर पहुँचने के लिए 12 किमी चलती है। फिर वह बाईं ओर मुड़ती है और बिंदु L पर पहुँचने के लिए 8 किमी चलती है। फिर वह क्रमशः बिंदु V और बिंदु J तक पहुँचने के लिए लगातार दो बार दाएं मुड़कर क्रमशः 7 किमी और 11 किमी चलती है।

14) यदि बिंदु O, बिंदु Y और X के ठीक मध्य में है, तो बिंदु J के सन्दर्भ में O की दिशा और दूरी क्या है?

- A. पूर्व की ओर 19 किमी
- B. पश्चिम की ओर 19 किमी
- C. पश्चिम की ओर 11 किमी
- D. पूर्व की ओर 12 किमी
- E. निर्धारित नहीं किया जा सकता है

15) बिंदु X के सन्दर्भ में बिंदु L की दिशा क्या है?

- A. पूर्व
- B. उत्तर-पश्चिम
- C. उत्तर-पूर्व
- D. दक्षिण
- E. दक्षिण-पश्चिम

16) निम्नलिखित में से चार एक निश्चित तरीके से एक समान हैं। निम्नलिखित में से कौन समूह से संबंधित नहीं है?

- A. VT
- B. JX

- C. VX
- D. TX
- E. YJ

निर्देश (17-19): निम्नलिखित जानकारी का ध्यानपूर्वक अध्ययन करें और नीचे दिए गए प्रश्नों के उत्तर दें।

बिंदु S, बिंदु L के 4 मीटर दक्षिण में है जो बिंदु E के 5 मीटर पूर्व में है। बिंदु Y, बिंदु H के 6 मीटर पश्चिम में और बिंदु P के 5 मीटर उत्तर में है। बिंदु E, बिंदु H के 6 मीटर उत्तर में है। बिंदु N, बिंदु D के 4 मीटर उत्तर में है जो बिंदु K के 9 मीटर पश्चिम में है। बिंदु G, बिंदु I के 11 मीटर पश्चिम में है और बिंदु A के 7 मीटर उत्तर में है। बिंदु I, बिंदु K के 3 मीटर दक्षिण में है जबकि बिंदु P, बिंदु A के 9 मीटर पूर्व में है।

17) बिंदु D और Y के बीच लगभग न्यूनतम दूरी कितनी है?

- A. 5.5 मी
- B. 7 मी
- C. 10 मी
- D. 8.6 मी
- E. इनमें से कोई नहीं

18) बिंदु I के सन्दर्भ में निम्नलिखित में से किस दिशा में बिंदु S है?

- A. पूर्व
- B. दक्षिणपूर्व
- C. उत्तर पूर्व
- D. दक्षिण पश्चिम
- E. इनमें से कोई नहीं

19) यदि बिंदु T, बिंदु E और H का मध्यबिंदु है, तो बिंदु T के सन्दर्भ में बिंदु K निम्न में से किस दिशा में है?

- A. पश्चिम
- B. पूर्व
- C. उत्तर पश्चिम
- D. दक्षिण पश्चिम

Top Important Direction Sense Questions for IBPS PO Pre 2021 – Hindi Version

E. इनमें से कोई नहीं

निर्देश (20-22): निम्नलिखित जानकारी का ध्यानपूर्वक अध्ययन करें और नीचे दिए गए प्रश्नों के उत्तर दें।

बिंदु X, बिंदु L के 7 मीटर पूर्व में है जो बिंदु S के 8 मीटर उत्तर में है। बिंदु R, बिंदु S के 6 मीटर पश्चिम में और बिंदु T के 10 मीटर दक्षिण में है। बिंदु F, बिंदु H के दक्षिण में 7 मीटर की दूरी पर है जो कि बिंदु T के पश्चिम में 6 मीटर की दूरी पर है। बिंदु B, बिंदु F के पूर्व में 3 मीटर की दूरी पर और बिंदु V के दक्षिण में 4 मीटर की दूरी पर है। बिंदु W, बिंदु V के पूर्व में 6 मीटर की दूरी पर और बिंदु E के दक्षिण में 4 मीटर की दूरी पर है।

20) बिंदु L के सन्दर्भ में निम्न में से किस दिशा में बिंदु V है?

- A. पश्चिम
- B. पूर्व
- C. दक्षिण पश्चिम
- D. पूर्वोत्तर
- E. इनमें से कोई नहीं

21) बिंदु W और T के बीच लगभग न्यूनतम दूरी क्या है?

- A. 2मी
- B. 3मी
- C. 5मी
- D. 4मी
- E. 6मी

22) यदि बिंदु K, बिंदु T और R का मध्यबिंदु है, तो बिंदु K और H के बीच की लगभग न्यूनतम दूरी क्या है?

- A. 7मी
- B. 7.8मी
- C. 6.6मी
- D. 9मी
- E. इनमें से कोई नहीं

निर्देश (23-25): निम्नलिखित जानकारी का ध्यानपूर्वक अध्ययन करें और नीचे दिए गए प्रश्नों के उत्तर दें-

बिंदु Q, बिंदु L के 16 मीटर उत्तर में है। बिंदु A, बिंदु X के 5 मीटर पूर्व में है। बिंदु G, बिंदु L के 10 मीटर पश्चिम में है। बिंदु M, बिंदु Q के 15 मीटर पश्चिम में है। बिंदु X, बिंदु G के 8 मीटर उत्तर में है। बिंदु T, बिंदु O के 7 मीटर उत्तर में है, जो बिंदु R के 10 मीटर पूर्व में है। बिंदु P, बिंदु M के 20 मीटर दक्षिण में है। बिंदु T, बिंदु P के 25मी पूर्व में है।

23) T के सन्दर्भ में Q की दिशा क्या है?

- A. पूर्व
- B. उत्तर-पश्चिम
- C. उत्तर-पूर्व
- D. दक्षिण
- E. दक्षिण-पश्चिम

24) Q और P के बीच सबसे छोटी दूरी क्या है?

- A. 35 मी
- B. 20 मी
- C. 25 मी
- D. 30 मी
- E. निर्धारित नहीं किया जा सकता

25) निम्नलिखित में से चार एक खास तरीके से समान हैं। निम्नलिखित में से कौन उस समूह से संबंधित नहीं है?

- A. MX
- B. AL
- C. PR
- D. QO
- E. PL

Top Important Direction Sense Questions for IBPS PO Pre 2021 – Hindi Version

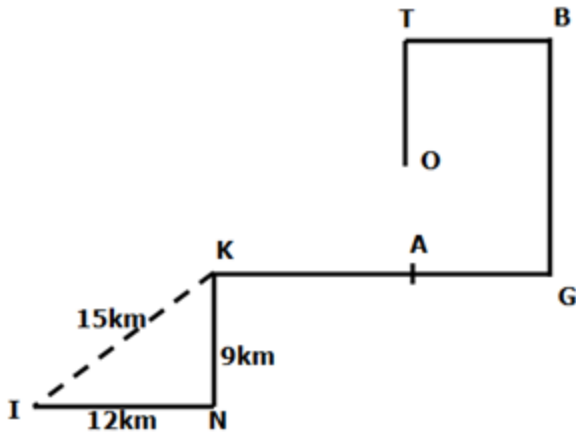
Answer With Explanation

1) उत्तर: B

$$12^2 + 9^2 = (IK)^2$$

$$\sqrt{(12^2 + 9^2)} = \sqrt{225} = 15 \text{ किमी}$$

2) उत्तर: C

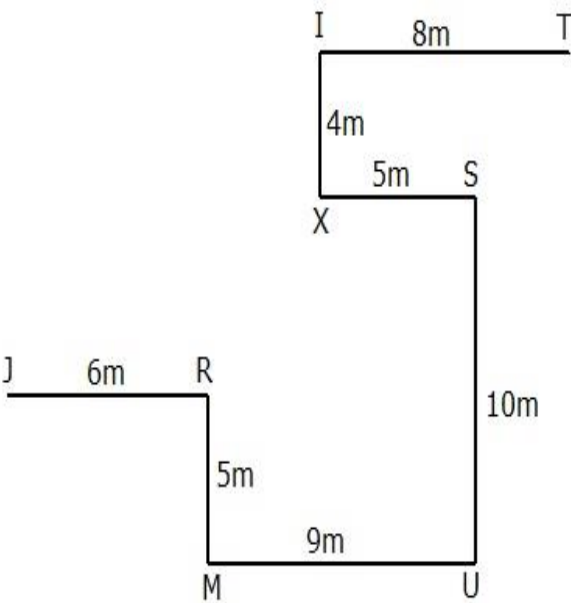


निर्देश (3-5):

3) उत्तर: B

4) उत्तर: C

5) उत्तर: A

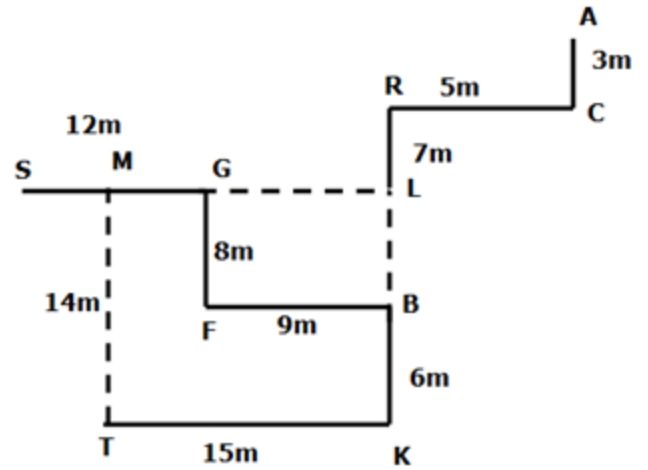


निर्देश (6-8):

6) उत्तर: B

7) उत्तर: E

8) उत्तर: C

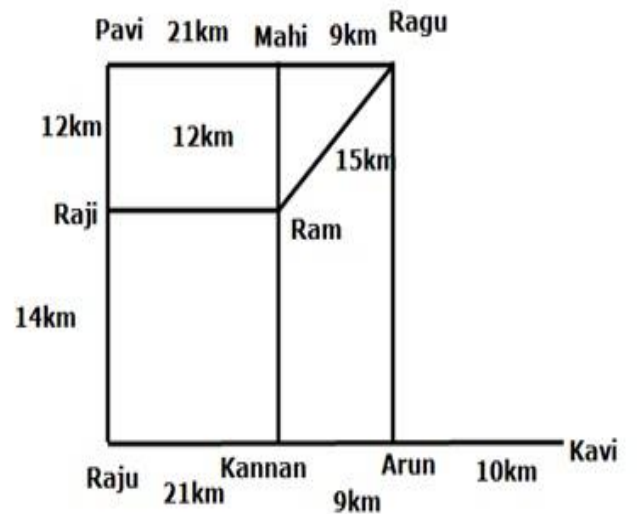


निर्देश (9-11):

9) उत्तर: B

10) उत्तर: C

11) उत्तर: C



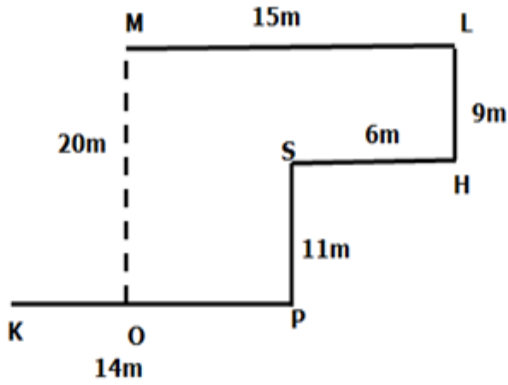
निर्देश (12-13):



Top Important Direction Sense Questions for IBPS PO Pre 2021 – Hindi Version

12) उत्तर: E

13) उत्तर: C

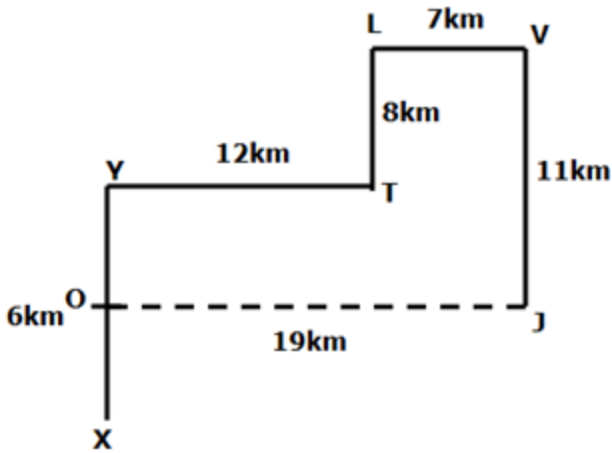


निर्देश (14-16):

14) उत्तर: B

15) उत्तर: C

16) उत्तर: E

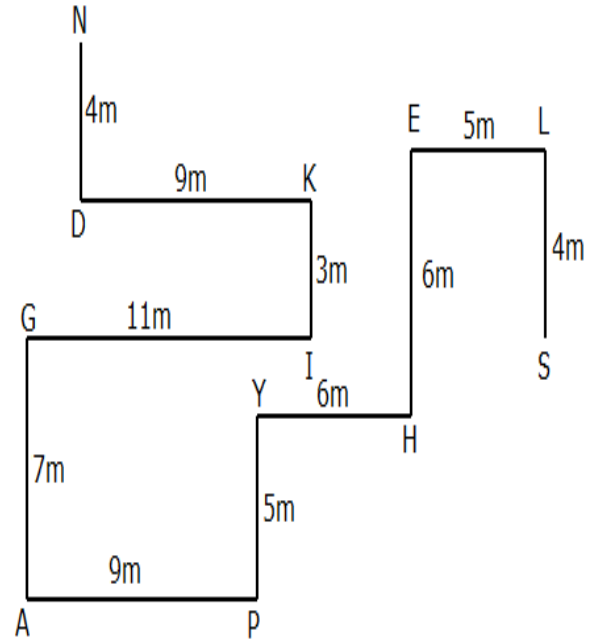


निर्देश (17-19):

17) उत्तर: D

18) उत्तर: A

19) उत्तर: C



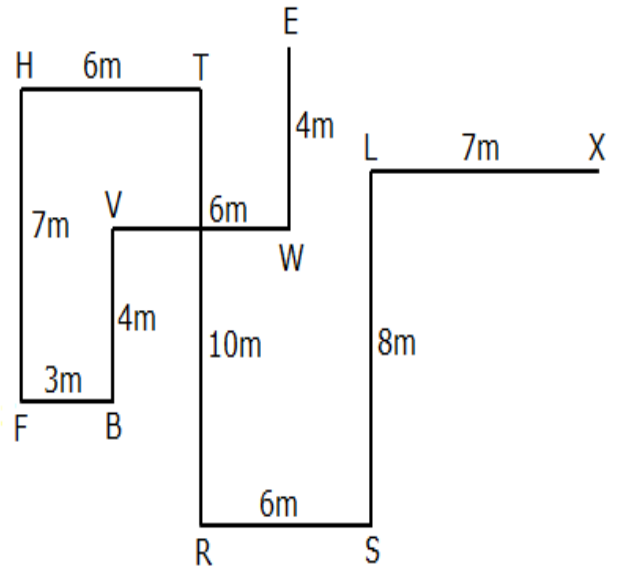
निर्देश (20-22):

20) उत्तर: C

21) उत्तर: D

22) उत्तर: B

दी गई जानकारी से, निम्नलिखित निर्धारित किया जाता है।



निर्देश (23-25):

23) उत्तर: B

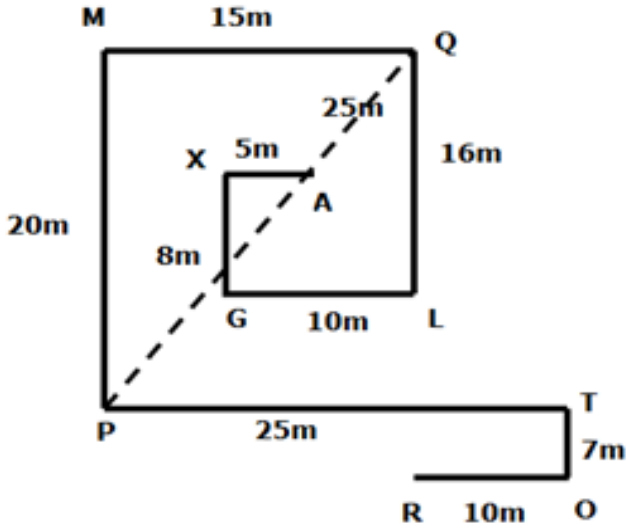
24) उत्तर: C

Top Important Direction Sense Questions for IBPS PO Pre 2021 – Hindi Version

$$15^2 + 20^2 = (PQ)^2$$

$$\sqrt{(15^2 + 20^2)} = \sqrt{625} = 25 \text{ मीटर}$$

25) उत्तर: E



Grand Bundle PDF Course 2021

Exams Covered:

**SBI Clerk | SBI PO | IBPS RRB PO |
IBPS RRB Clerk | IBPS PO | IBPS Clerk**

Separate PDF Course for All Major Bank pre + Mains Exams

- Total No. of Ques: 40,000+
- Question in Bilingual (Eng & Hindi)
- Answers With Detailed Video Solution
- Provides you 50 days Study Planner for each exams
- Covers All Types of Questions in Each Topic
- Questions in Exact Exam Level
- All Our PDFs are Downloadable
- 100% Satisfaction Assured & It's Worthy for your money
- Download as PDF & also take Quiz with Timer



Grab It Now

guidely

Grand Bundle PDF Course for All Bank Prelims Exams 2021

Separate PDF Courses for All Major Bank Exams

- Total Number of Questions: **25000**
- Language: English & Hindi
- Exact Exam Level Questions
- Answer Key with Video Solution

Exams Covered:

- SBI Clerk
- SBI PO
- IBPS PO
- IBPS Clerk
- IBPS RRB PO
- IBPS RRB Clerk

Validity: 1 Year

Grab It Now

guidely

Grand Bundle PDF Course for All Bank Mains Exams 2021

Separate PDF Courses for All Major Bank Exams

- Total Number of Questions: **15000**
- Language: English & Hindi
- Exact Exam Level Questions
- Answer Key with Video Solution

Exams Covered:

- SBI Clerk
- SBI PO
- IBPS PO
- IBPS Clerk
- IBPS RRB PO
- IBPS RRB Clerk

Validity: 1 Year

Grab it Now

guidely

Grand Bundle PDF Course Combo Prelims + Mains 2021

Separate PDF Courses for All Major Bank Exams

- Total Number of Questions: **40000+**
- Language: English & Hindi
- Exact Exam Level Questions
- Answer Key with Video Solution

Exams Covered:

- SBI Clerk
- SBI PO
- IBPS PO
- IBPS Clerk
- IBPS RRB PO
- IBPS RRB Clerk

Validity: 1 Year

Grab it Now